
























Test clasa 9 sem I

ID	Questions	Question Image
1 	<p>Microfonul, boxele si camera web sunt dispozitive de intrare</p> <p>A. Adevarat</p> <p>B. Fals</p>	
2 	<p>Care din urmatoarele este dipozitiv de iesire</p> <p>A. mouse</p> <p>B. monitor</p> <p>C. joystick</p> <p>D. tastatura</p>	
3 	<p>Ce marimi sunt caracteristice pentru procesor?</p> <p>A. Frecventa</p> <p>B. viteza de tiparire</p> <p>C. capacitatea memorie ram</p> <p>D. latimea de banda</p>	
4 	<p>8 biti formeaza un...</p> <p>_____</p>	
5 	<p>La care dispozitiv nu vorbim de rezolutie?</p> <div style="text-align: center;">  </div>	

6 	<p>Stabiliti corespondente</p> <table><tr><td>Imprimanta</td><td>matriceala sau termica</td></tr><tr><td>Tastatura</td><td>fix sau portabil</td></tr><tr><td>Scanner</td><td>standard sau cu set extins</td></tr><tr><td>Monitor</td><td>Crt sau lcd</td></tr></table>	Imprimanta	matriceala sau termica	Tastatura	fix sau portabil	Scanner	standard sau cu set extins	Monitor	Crt sau lcd	
Imprimanta	matriceala sau termica									
Tastatura	fix sau portabil									
Scanner	standard sau cu set extins									
Monitor	Crt sau lcd									
7 	<p>Aranjati urmatoarele dispozitive in ordinea crescatoare a capacitatii de memorare</p> <p>A. CD standard</p> <p>B. stic USB 4 GB</p> <p>C. Discheta</p> <p>D. DVD standard</p> <p>E. hard disk</p>									
8 	<p>Care din urmatoarele combinatii se refera in totalitate la interfata grafica a sistemului de operare?</p> <p>A. limbaj de comanda, meniu, pictograma</p> <p>B. fereastra, pictograma, buton</p> <p>C. unitate logica, fisier, folder</p> <p>D. monotasking, multiuser, utilitar</p>									
9 	<p>Selectati termenii care se refera la actiuni ale programelor utilitare</p> <p>A. Devirusare</p> <p>B. procesare text</p> <p>C. Arhivare</p> <p>D. Defragmentare</p> <p>E. procesare imagine</p> <p>F. scanare hard disk</p> <p>G. procesare sunet</p>									

10 	<p>Care din urmatoarele combinatii se refera in totalitate la topologii de retele?</p> <p>A. wan, man, placa de baza</p> <p>B. lan, man, wan</p> <p>C. inel, magistrala, stea</p> <p>D. placa de retea, switch, modem</p>	
11 	<p>Care din urmatoarele combinatii se refera in totalitate la operatii din Paint?</p> <p>A. selectie, decupare, introducere text</p> <p>B. animatie, imagine, redimensionare</p> <p>C. desenare, colorare, arhivare</p> <p>D. copiere, stergere, formatare</p>	
12 	<p>Care din urmatoarele formate sunt compatibile cu programul Microsoft Word?</p> <p>A. png</p> <p>B. pdf</p> <p>C. ppt</p> <p>D. doc</p> <p>E. rtf</p> <p>F. docx</p>	